

## 令和5年度 沖縄県職員採用初級試験 問題例題

※ 試験問題の出題形式等の参考にしてください。

## 【例題1】

## 初級教養

日本国憲法における人権保障に関する次の記述のうち妥当なのはどれか。

1. 基本的人権は、天皇からの恩恵として、国民に与えられたものである。
2. 国は、法律の根拠があれば、基本的人権に対していかなる制限を加えることも許される。
3. 国民は、基本的人権を濫用してはならず、常に公共の福祉のために利用する責任を負う。
4. 基本的人権は個人の権利であるから、会社などの法人には保障されない。
5. 基本的人権が私人同士の間で侵害された場合、裁判所は、憲法の基本的人権の規定のいずれについても、私人間の関係に直接適用して紛争を解決する。

(正答 3)

## 【例題2】

## 初級教養

次のうち、下線部分の漢字が正しいのはどれか。

1. 不要な擬惑を招く言動は避けるべきだ。
2. まずは斬定的な企画案を作成する。
3. 彼は別の話を前後の脈酪なく始めた。
4. お世話になった人にお歳慕を贈る。
5. 壯年期に入り、ますます仕事に打ち込む。

(正答5)

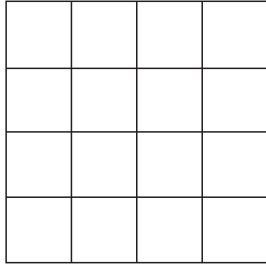
### 【例題3】

### 初級教養

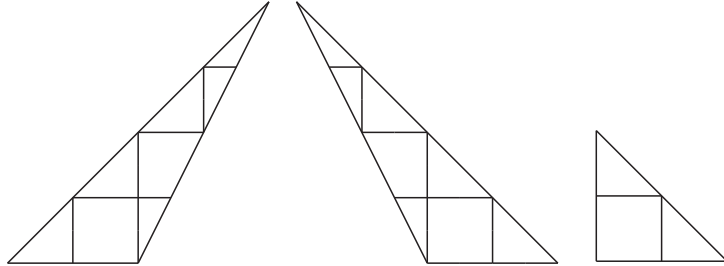
正方形の紙を用意し、図Ⅰのように紙の表側に16等分する線を引いた。この紙を五つの紙片に切り分けたとき、そのうちの三つが図Ⅱのようであったとき、残りの二つとして妥当なものをア～エのうちから選んでいるのはどれか。

ただし、紙は裏返さないものとする。

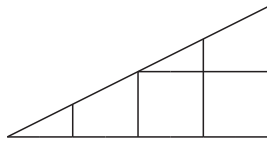
図Ⅰ



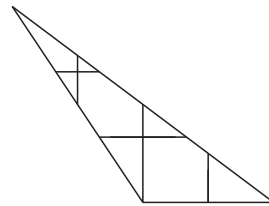
図Ⅱ



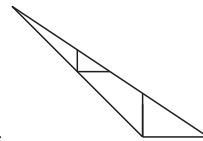
ア.



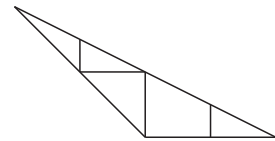
イ.



ウ.



エ.



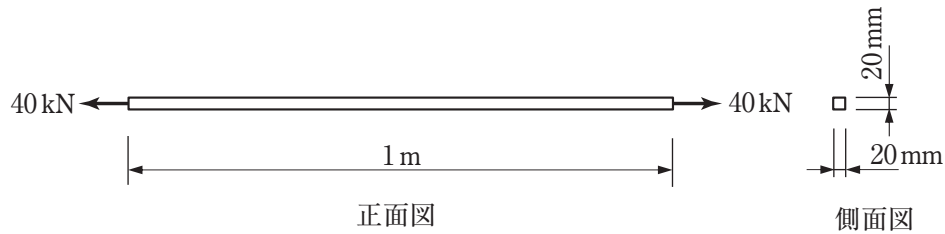
1. ア, イ
2. ア, ウ
3. ア, エ
4. イ, ウ
5. イ, エ

(正答 3)

## 【例題1】

## 初級土木

図のような長さが1 m、断面が20 mm×20 mmの正方形の鋼材を軸方向に40 kNで引っ張ると、1 mm伸びた。フックの法則が成り立つとき、この鋼材の弾性係数（ヤング係数）はいくらか。



1.  $6.0 \times 10^4 \text{ N/mm}^2$
2.  $8.0 \times 10^4 \text{ N/mm}^2$
3.  $1.0 \times 10^5 \text{ N/mm}^2$
4.  $1.2 \times 10^5 \text{ N/mm}^2$
5.  $1.4 \times 10^5 \text{ N/mm}^2$

(正答 3)

## 【例題2】

## 初級土木

トラバースの種類に関する次の記述A～Cに当てはまるものの組合せとして  
妥当なのはどれか。

- A. 終点の座標が未知なトラバースであり、測量の正確さを確かめられないので、高い精度を必要としない場合に用いられる。
- B. ある点から始まり、最後にふたたび出発点に戻り、全体で一つの多角形をつくるトラバースである。
- C. 既知点を結び、既知点の間の新点（未知点）の位置を求めるトラバースである。

A	B	C
1. 結合トラバース	開放トラバース	閉合トラバース
2. 結合トラバース	閉合トラバース	開放トラバース
3. 開放トラバース	結合トラバース	閉合トラバース
4. 開放トラバース	閉合トラバース	結合トラバース
5. 閉合トラバース	結合トラバース	開放トラバース

(正答 4)

## 【例題1】

## 初級農業土木

土のせん断強さを，土のせん断面に働く垂直応力，土粒子間に働く粘着力，せん断抵抗角（内部摩擦角）によって表すクーロンの式はどれか。

ただし，せん断強さを $\tau$ ，垂直応力を $\sigma$ ，粘着力を $c$ ，せん断抵抗角を $\phi$ とする。

1.  $\tau = \sigma + c \sin \phi$
2.  $\tau = \sigma + c \tan \phi$
3.  $\tau = c + \sigma \sin \phi$
4.  $\tau = c + \sigma \tan \phi$
5.  $\tau = c + 2\sigma \tan \phi$

(正答 4)

### 【例題3】

### 初級農業土木

空中写真測量に関する次の記述A～Cの正誤の組合せとして妥当なのはどれか。

- A. 撮影時の現地の状況を再現でき、異なる日時の写真を比較することで変化の状況を調べることができる。
- B. 樹木の写真判読が困難なため、森林調査では空中写真測量を利用することができない。
- C. 高い建物や樹木などによっては死角ができることもある。

	A	B	C
1.	正	正	誤
2.	正	誤	正
3.	正	誤	誤
4.	誤	正	正
5.	誤	正	誤

(正答 2)